



1. Add.

$23 + 24 =$

- A. 41
- B. 31
- C. 47
- D. 37
- E. 50

2. Subtract.

$45 - 15 =$

- A. 12
- B. 10
- C. 25
- D. 20
- E. 30

3. Multiply.

$8 \times 9 =$

- A. 15
- B. 89
- C. 72
- D. 54
- E. 45

4. Divide.

$42 \div 7 =$

- A. 3
- B. 4
- C. 5
- D. 6
- E. 12

5. Add.

$3.5 + 4.1 =$

- A. 7.3
- B. 6.6
- C. 7.2
- D. 7.6
- E. 5.5

اجمع.

6. Subtract.

$9.2 - 7.1 =$

- A. 2.4
- B. 2.1
- C. 14
- D. 14.8
- E. 24

اطرح.

7. Add.

$\frac{5}{11} + \frac{1}{11} =$

- A.  $\frac{6}{22}$
- B.  $\frac{5}{11}$
- C.  $\frac{5}{7}$
- D.  $\frac{6}{11}$
- E.  $\frac{6}{121}$

اجمع.

8. Add.

$707 + 70 =$

- A. 14070
- B. 70770
- C. 7770
- D. 777
- E. 7

اجمع

9. Multiply.

$90 \times 30 =$

- A. 270
- B. 2700
- C. 27 000
- D. 120
- E. 700

اوجد ناتج الضرب.



10. Divide. اوجد ناتج القسمة.

$$900 \div 100 =$$

- A. 90000
- B. 900
- C. 90
- D. 9
- E. 0

11. Add. اجمع.

$$19 + 8 =$$

- A. 27
- B. 37
- C. 23
- D. 47
- E. 17

12. Subtract. اطرح.

$$32 - 6 =$$

- A. 16
- B. 26
- C. 24
- D. 17
- E. 37

13. Multiply. اوجد ناتج الضرب.

$$5 \times 15 =$$

- A. 35
- B. 60
- C. 75
- D. 65
- E. 55

14. Divide. اوجد ناتج القسمة.

$$64 \div 2 =$$

- A. 23
- B. 24
- C. 42
- D. 18
- E. 32

15. Add. اجمع.

$$34 + 52 =$$

- A. 76
- B. 86
- C. 45
- D. 78
- E. 68

16. Subtract. اطرح.

$$56 - 13 =$$

- A. 24
- B. 43
- C. 13
- D. 31
- E. 32

17. Multiply. اوجد ناتج الضرب.

$$7 \times 21 =$$

- A. 247
- B. 60
- C. 114
- D. 116
- E. 147

18. Divide. اوجد ناتج القسمة.

$$39 \div 3 =$$

- A. 13
- B. 21
- C. 31
- D. 24
- E. 23

19. Multiply. اوجد ناتج الضرب.

$$14 \times 12 =$$

- A. 60
- B. 26
- C. 68
- D. 268
- E. 168



20. Add.

$$\frac{1}{6} + \frac{1}{7} =$$

- A.  $\frac{8}{42}$
- B.  $\frac{2}{13}$
- C.  $\frac{1}{42}$
- D.  $\frac{2}{9}$
- E.  $\frac{13}{42}$

21. Subtract.

$$\frac{1}{4} - \frac{1}{8}$$

- A.  $\frac{2}{3}$
- B.  $\frac{1}{4}$
- C.  $\frac{1}{32}$
- D.  $\frac{1}{8}$
- E.  $\frac{3}{4}$

22. What is the next number in this pattern?

$$9, 11, 13, 15, ?$$

ما هو العدد التالي في هذا النمط؟

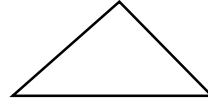
- A. 16
- B. 17
- C. 18
- D. 19
- E. 20

اجمع.


23. Which of the following shapes is a rectangle?

أي من الأشكال التالية مستطيل؟

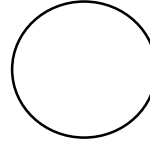
A.



B.



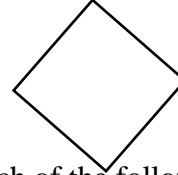
C.



D.



E.



24. Which of the following units can be used to measure the distance from Abu-Dhabi To Dubai?

أي من الوحدات التالية يُمكن استخدامها لقياس المسافة بين ابوظبي و دبي؟

A. Kilogram

كيلوغرام

B. Liter

لتر

C. Centimeter

سنتيمتر

D. Gram

غرام

E. Kilometer

كيلومتر



25.  $\frac{2}{9} \div \frac{4}{3} =$

A.  $\frac{6}{12}$

B.  $\frac{1}{9}$

C.  $\frac{1}{6}$

D.  $\frac{8}{27}$

E.  $\frac{2}{6}$

26. What number goes in the box to make the sentence true?

$$19 + \square = 24$$

أي عدد يجب وضعه في المربع لتكون الجملة صحيحة؟

A. 2

B. 3

C. 4

D. 5

E. 10



Answer key:

1. C
2. E
3. C
4. D
5. D
6. B
7. D
8. D
9. B
10. D
11. A
12. B
13. C
14. E
15. B
16. B
17. E
18. A
19. E
20. E
21. D
22. B
23. B
24. E
25. C
26. D