

1. Add:

$$23 + 24 =$$

الصحيح

- A. 41
- B. 31
- C. 47
- D. 37
- E. 50

2. Subtract:

$$45 - 15 =$$

الطريق

- A. 12
- B. 10
- C. 25
- D. 20
- E. 30

3. Multiply

$$8 \times 9 =$$

أوجد ناتج الضرب

- A. 15
- B. 89
- C. 72
- D. 34
- E. 45

4. Divide:

$$42 \div 7 =$$

أوجد ناتج القسمة

- A. 3
- B. 4
- C. 5
- D. 6
- E. 13

5. Add:

$$33 + 44 =$$

الصحيح

- A. 75
- B. 66
- C. 72
- D. 76
- E. 55

6. Subtract:

$$92 - 71 =$$

الطريق

- A. 24
- B. 21
- C. 19
- D. 14.8
- E. 24

7. Add

$$\frac{5}{11} + \frac{1}{11} =$$

الصحيح

- A. $\frac{6}{22}$
- B. $\frac{6}{11}$
- C. $\frac{6}{7}$
- D. $\frac{6}{11}$
- E. $\frac{6}{121}$

8. Add

$$707 + 70 =$$

الصحيح

- A. 14070
- B. 70770
- C. 7770
- D. 777
- E. 7

9. Multiply

$$90 \times 30 =$$

أوجد ناتج الضرب

- A. 270
- B. 2700
- C. 27000
- D. 120
- E. 700

10. Divide:

$900 \div 100 =$

أوجد ناتج القسمة

- A. 90000
- B. 900
- C. 90
- D. 9
- E. 0

11. Add:

$19 + 8 =$

أصح

- A. 37
- B. 37
- C. 23
- D. 47
- E. 17

12. Subtract:

$32 - 6 =$

أطرح

- A. 16
- B. 26
- C. 24
- D. 17
- E. 37

13. Multiply:

$5 \times 15 =$

أوجد ناتج الضرب

- A. 35
- B. 60
- C. 75
- D. 65
- E. 55

14. Divide:

$64 \div 2 =$

أوجد ناتج القسمة

- A. 23
- B. 24
- C. 42
- D. 18
- E. 32

15. Add:

$34 + 32 =$

أصح

- A. 76
- B. 86
- C. 45
- D. 78
- E. 68

16. Subtract:

$56 - 13 =$

أطرح

- A. 24
- B. 43
- C. 17
- D. 31
- E. 32

17. Multiply:

$7 \times 21 =$

أوجد ناتج الضرب

- A. 247
- B. 60
- C. 147
- D. 116
- E. 147

18. Divide:

$39 \div 3 =$

أوجد ناتج القسمة

- A. 15
- B. 11
- C. 31
- D. 24
- E. 23

19. Multiply:

$14 \times 12 =$

أوجد ناتج الضرب

- A. 60
- B. 26
- C. 68
- D. 268
- E. 168

20. Add.

$$\frac{1}{6} + \frac{1}{7} =$$

- A. $\frac{8}{42}$
- B. $\frac{2}{13}$
- C. $\frac{1}{42}$
- D. $\frac{9}{42}$
- E. $\frac{13}{42}$

21. Subtract.

$$\frac{1}{4} - \frac{1}{8}$$

- A. $\frac{2}{8}$
- B. $\frac{1}{4}$
- C. $\frac{1}{32}$
- D. $\frac{1}{8}$
- E. $\frac{9}{4}$

22. What is the next number in this pattern?

9, 11, 13, 15, ?

ما هو العدد التالي في هذا السلسلة

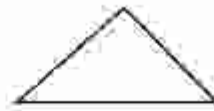
- A. 16
- B. 17
- C. 18
- D. 19
- E. 20

اجمع

23. Which of the following shapes is a rectangle?

أي من الأشكال التالية مستطيل؟

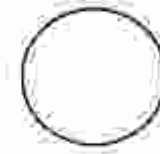
A.



B.



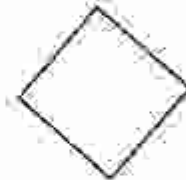
C.



D.



E.



اطرح

24. What number goes in the box to make the sentence true?

$$19 + \square = 24$$

أي عدد يجب وضعه في المربع لتكون الجملة صحيحة؟

- A. 3
- B. 5
- C. 4
- D. 6
- E. 10

25. $\frac{12}{9} \times \frac{14}{13} =$

أوجد ناتج النسبة

A. $\frac{16}{12}$

B. $\frac{1}{9}$

C. $\frac{1}{6}$

D. $\frac{8}{27}$

E. $\frac{2}{6}$

26. $\frac{13}{3} \times \frac{25}{9} =$ الربط بين الطرفين

A. $\frac{11}{9}$

B. $\frac{14}{50}$

C. $\frac{112}{27}$

D. $\frac{18}{14}$

E. $\frac{27}{75}$

27. What number goes in the space to make the sentence true?

أي عدد يكمل العبارة في الفراغ لتكون العبارة صحيحة؟

$75 = \underline{\quad} = 18$

A. 75

B. 27

C. 93

D. 10

E. 63

28. Karen had 9 pens
Her father gave her 5 Her mother took
away 3.
She has _____ pens now.

توجد سبعة أقلام في البداية

أعطتها والدها 5 أقلام وأخذت والدتها منها 3 أقلام

كم عدد الأقلام التي

لديها الآن؟

A. 17

B. 7

C. 11

D. 10

E. 13

29. What number is half of 50?

ما هو نصف العدد 50؟

A. 5

B. 10

C. 20

D. 25

E. 30

30. Which of the following units can be used to measure the distance from Abu-Dhabi To Dubai?

أي من الوحدات التالية يمكن استخدامها لقياس المسافة بين أبوظبي ودبي؟

- | | |
|---------------|----------|
| A Kilogram: | كيلوغرام |
| B Liter: | لتر |
| C Centimeter: | سنتيمتر |
| D Gram: | غرام |
| E Kilometer: | كيلومتر |

31. Add

أوجد ناتج الجمع

$$4\frac{3}{5} + 2\frac{3}{5} =$$

- A. $5\frac{1}{5}$
- B. 5
- C. $7\frac{1}{5}$
- D. $6\frac{1}{5}$
- E. 6

32. Express the fraction $\frac{45}{27}$ in simplest form.

تحويل الكسر $\frac{45}{27}$ إلى أبسط صورة.

A. $\frac{5}{3}$

B. $\frac{11}{9}$

C. $\frac{5}{9}$

D. $\frac{5}{9}$

E. $\frac{5}{3}$

33. If $a = 2$ and $b = 3$, what is the value of the expression $\frac{6a - 3b}{3}$?

إن $a = 2$ و $b = 3$ فما هي قيمة
التعبير $\frac{6a - 3b}{3}$ ؟

A. 3

B. 1

C. 6

D. 4

E. 12

34. Which of the following is a multiple of 9?

أي مما يلي هو مضرب العدد 9؟

- A. 63
- B. 17
- C. 50
- D. 32
- E. 57

35. Evaluate: أوجد قيمة التعبير.

$$12 \div 2 + 3 \times 2 =$$

- A. 12
- B. 21
- C. 11
- D. 14
- E. 31

Answer Key

- 1 C
- 2 E
- 3 C
- 4 D
- 5 D
- 6 E
- 7 D
- 8 D
- 9 B
- 10 D
- 11 A
- 12 B
- 13 C
- 14 E
- 15 B
- 16 B
- 17 E
- 18 A
- 19 E
- 20 E
- 21 D
- 22 B
- 23 B
- 24 D
- 25 C
- 26 B
- 27 B
- 28 C
- 29 D
- 30 E
- 31 C
- 32 E
- 33 A
- 34 E
- 35 A